























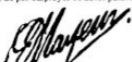
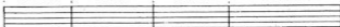



1^{er} Devoir.

VALEUR DES FIGURES DE NOTES.

<p>1^o de  pour une </p> <p>1. Combien faut-il</p> <p>2^o  </p> <p>3^o  </p> <p>4^o  deux </p>	<p>1^o Il en faut</p> <p>2^o</p> <p>3^o</p> <p>4^o</p>
<p>2. Quelle est la valeur</p> <p>1^o de la  par rapport à la </p> <p>2^o  </p> <p>3^o  </p> <p>4^o  </p> <p>5^o  </p>	<p>Ex: 1^o La  vaut le quart de la </p> <p>2^o</p> <p>3^o</p> <p>4^o</p> <p>5^o</p>
<p>3. Ecrivez dans chaque mesure la figure de note qui équivaut aux valeurs écrites ci-contre.</p>	
<p>4. Ecrivez dans chaque mesure le nombre de notes indiqué au-dessus pour avoir</p> <p>1^o la valeur d'une <i>Ronde</i></p> <p>(A)</p> <p>2^o la valeur d'une <i>Blanche</i></p>	  
<p>(A) ne pas employer de notes pointées.</p> 	 

24^{me} Devoir.

SUR LA SIXTE ET LA SEPTIÈME MAJEURE.

1. Quel est la contenance de la sixte majeure ?

2. Ecrivez la sixte majeure des notes suivantes

en montant

en descendant




3. Quelle est la contenance de la septième majeure.


4. Ecrivez la septième majeure des notes suivantes

en montant

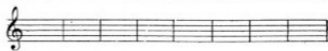
en descendant



5. Ecrivez en sixtes la gamme de Do et liez les sixtes majeures.



6. Ecrivez en septièmes la gamme de Do et liez les septièmes majeures.



7. Quelle différence y a-t-il entre

1^o la 6^{me} majeure et la 3^{me} majeure

2^o 5^{me} juste 7^{me} „ „

3^o 4^{me} juste 6^{me} „ „

4^o 7^{me} majeure 6^{me} „ „

1^o

2^o

3^o

4^o

8. Quel intervalle faut-il ajouter

1^o à la 2^{de} maj. pour avoir la 6^{me} maj.

2^o 3^{me} „ „ 7^{me} „

1^o à la seconde majeure il faut ajouter

2^o à la tierce majeure il faut ajouter